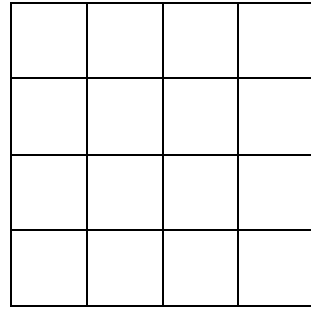


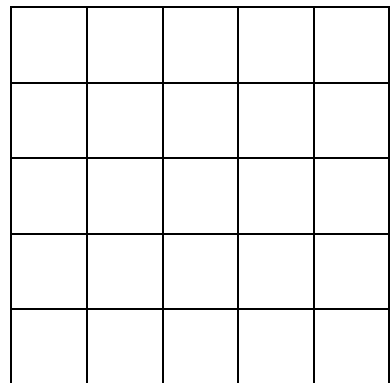
# Vi bygger med stickor

1. Bygg en kvadrat av åtta stickor.  
Rita din kvadrat!



2. Bygg så många kvadrater du kan av 12 stickor.  
De får sitta ihop.  
Rita kvadraterna!

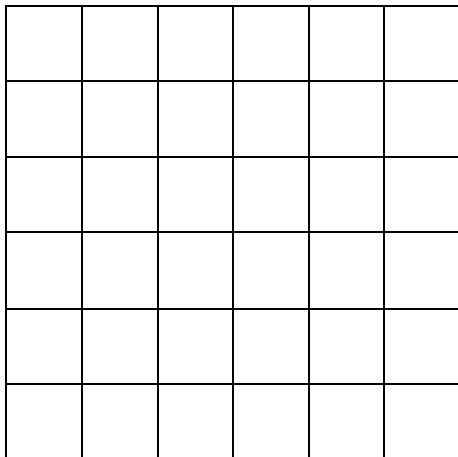
Svar: Jag kunde bygga \_\_\_\_\_ kvadrater.



3. Hur många stickor behöver du om du ska bygga fyra kvadrater?  
De får sitta ihop.  
Svar: Jag behöver \_\_\_\_\_ stickor.

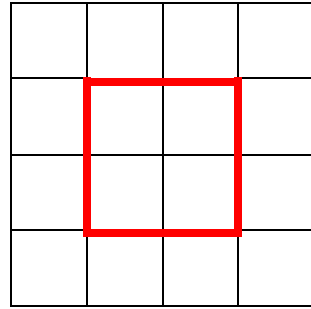
4. Bygg minst fem olika rektanglar med omkretsen 20 stickor.  
Visa dem för fröken!

5. Bygg en kvadrat med omkretsen 16 stickor.  
Rita din kvadrat!



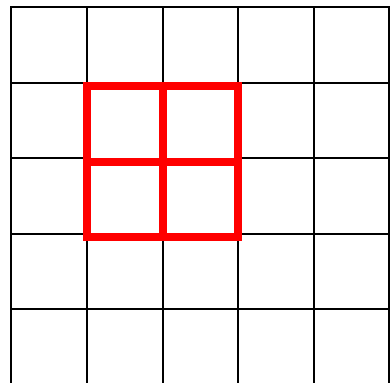
# Vi bygger med stickor

1. Bygg en kvadrat av åtta stickor.  
Rita din kvadrat!



2. Bygg så många kvadrater du kan av 12 stickor.  
De får sitta ihop.  
Rita kvadraterna!

Svar: Jag kunde bygga **5** kvadrater  
(fyra små och en lite större).



3. Hur många stickor behöver du om du ska bygga fyra kvadrater?  
De får sitta ihop.  
Svar: Jag behöver **12** stickor.

4. Bygg minst fem olika rektanglar med omkretsen 20 stickor.  
Visa dem för fröken! **B\*L 1\*9, 2\*8, 3\*7, 4\*6 och 5\*5**

5. Bygg en kvadrat med omkretsen 16 stickor.  
Rita din kvadrat!

